

1) Risolvi le seguenti equazioni e scrivi le soluzioni reali in ordine crescente, indicando se sono multiple e quante sono le eventuali soluzioni non reali:

$(x-2)^3(3x+2)^2 = 0$  per risolvere questa equazione si applica subito la legge di annullamento del prodotto dato che è già scomposta in fattori ottenendo l'insieme di soluzioni  $S = \left\{ -\frac{2}{3}(\text{doppia}); 2(\text{tripla}) \right\}$

$(1-x)^3 = x^2(1-x)$  questa equazione equivale a  $(1-x)^3 - x^2(1-x) = 0$  quindi non è scomposta in fattori e vanno sviluppate le operazioni (cubo del binomio e moltiplicazione di un monomio per un binomio) ottenendo:  $1-x^3-3x+3x^2 = x^2-x^3$  da cui:

$2x^2-3x+1=0 \Rightarrow 2x^2-2x-x+1=0 \Rightarrow 2x(x-1)-(x-1)=0 \Rightarrow (x-1)(2x-1)=0$   
quindi, applicando la legge di annullamento del prodotto, si ottiene l'insieme delle soluzioni:  $S = \left\{ \frac{1}{2}; 1 \right\}$

$\frac{x^2}{x^2-3x+2} + \frac{x^2}{2-2x} = 0$  per risolvere questa equazione si scompongono i denominatori, al fine di determinare le condizioni di esistenza e il minimo denominatore comune:  
 $x^2-3x+2=0$  si scompone facilmente in  $(x-1)(x-2)$  e  $2-2x$  in  $2(1-x)$  oppure  $-2(x-1)$

quindi:

$$\frac{x^2}{(x-1)(x-2)} - \frac{x^2}{2(x-1)} = 0 \quad \text{con} \quad C.E.: x \neq 1 \wedge x \neq 2$$

da cui:

$$\frac{2x^2 - x^2(x-2)}{2(x-1)(x-2)} = 0 \quad \text{da cui, applicando il secondo principio di equivalenza delle equazioni, si ottiene:}$$

$2x^2 - x^2(x-2) = 0 \Rightarrow 2x^2 - x^3 + 2x^2 = 0 \Rightarrow 4x^2 - x^3 = 0 \Rightarrow x^2(4-x) = 0$   
quindi, applicando la legge di annullamento del prodotto si ottiene l'insieme delle soluzioni:  $S = \{0(\text{doppia}); 4\}$

2) Risolvi il seguente sistema di disequazioni e scrivi le soluzioni nelle due forme diverse che conosci:

$$\begin{cases} 3x + 2x^2 \leq 5x^3 \\ \frac{1-3x}{4x^2+4x+1} \geq 0 \end{cases}$$

Per risolvere la prima disequazione si applica il primo principio di equivalenza delle disequazioni, ottenendo:

$$-5x^3 + 2x^2 + 3x \leq 0 \Rightarrow -x(5x^2 - 2x - 3) \leq 0$$

Il fattore  $5x^2 - 2x - 3$  si può scomporre così:  $5x^2 - 5x + 3x - 3 = 5x(x-1) + 3(x-1) = (x-1)(5x+3)$

Quindi lo schema del prodotto dei segni dei fattori risulta:

		-3/5	0	1	
-x	+		+		-
$5x^2 - 2x - 3$	+		-		+
Segno del prodotto	+		-		-

Da cui si deduce che la disequazione  $-5x^3 + 2x^2 + 3x \leq 0$  ha soluzioni:

$$-\frac{3}{5} \leq x \leq 0 \vee x \geq 1 \quad \text{cioè:} \quad S = \left[-\frac{3}{5}; 0\right] \cup [1; +\infty[$$

Allo stesso risultato si poteva arrivare anche raccogliendo x invece di -x, cioè:

$$-5x^3 + 2x^2 + 3x \leq 0 \quad \Rightarrow \quad x(-5x^2 + 2x + 3) \leq 0$$

		-3/5	0	1	
x	-		-		+
$-5x^2 + 2x + 3$	-		+		-
Segno del prodotto	+		-		-

o anche studiando il segno dei tre fattori di primo grado

Per risolvere la seconda disequazione, si scompone il denominatore:  $1 + 4x + 4x^2 = (2x + 1)^2$

quindi lo schema del prodotto dei segni dei fattori risulta:

		-1/2	1/3	
$1 - 3x$	+		+	
$4x^2 + 4x + 1$	+	X	+	
Segno del quoziente	+		+	

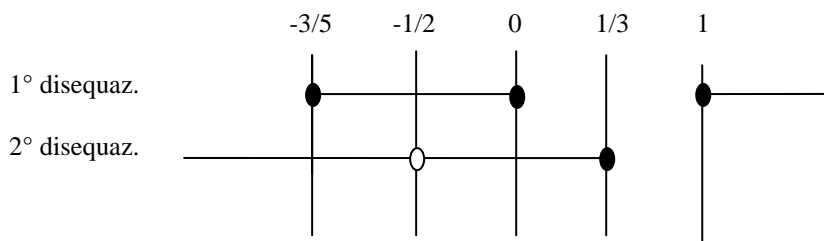
Da cui si deduce che la disequazione  $\frac{1-3x}{4x^2+4x+1} \geq 0$  ha soluzioni:

$$x < -\frac{1}{2} \vee -\frac{1}{2} < x \leq \frac{1}{3} \quad \text{cioè:} \quad S = \left]-\infty; -\frac{1}{2}\right[ \cup \left]-\frac{1}{2}; \frac{1}{3}\right]$$

I risultati delle due disequazioni vanno messi a sistema per determinare le soluzioni comuni, quindi:

$$\begin{cases} -\frac{3}{5} \leq x \leq 0 \vee x \geq 1 \\ x < -\frac{1}{2} \vee -\frac{1}{2} < x \leq \frac{1}{3} \end{cases}$$

da cui:



Osservando lo schema delle soluzioni si deduce che la soluzione del sistema è:

$$-\frac{3}{5} \leq x < -\frac{1}{2} \vee -\frac{1}{2} < x \leq 0 \quad \text{cioè:} \quad S = \left[ -\frac{3}{5}; -\frac{1}{2} \right[ \cup ] -\frac{1}{2}; 0 ]$$

3) Rappresenta, su un piano cartesiano monometrico in cui l'unità di misura corrisponde a due quadretti, il seguente sistema di disequazioni (cancella le zone che sono escluse e alla fine evidenzia la zona che rappresenta l'insieme delle soluzioni) Determina poi le coordinate dei vertici della regione che hai individuato:

$$\begin{cases} 3(x+2) \geq 6 \\ 3x-2y \leq 4 \\ 2y-4 \leq 0 \end{cases}$$

La prima disequazione  $3(x+2) \geq 6 \Rightarrow 3x+6 \geq 6 \Rightarrow 3x \geq 0 \Rightarrow x \geq 0$  ha per soluzioni tutti i punti dell'asse  $y$  e quelli del semipiano a destra dell'asse stesso.

Quindi si cancella la zona a sinistra dell'asse delle ordinate (2° e 3° quadrante)

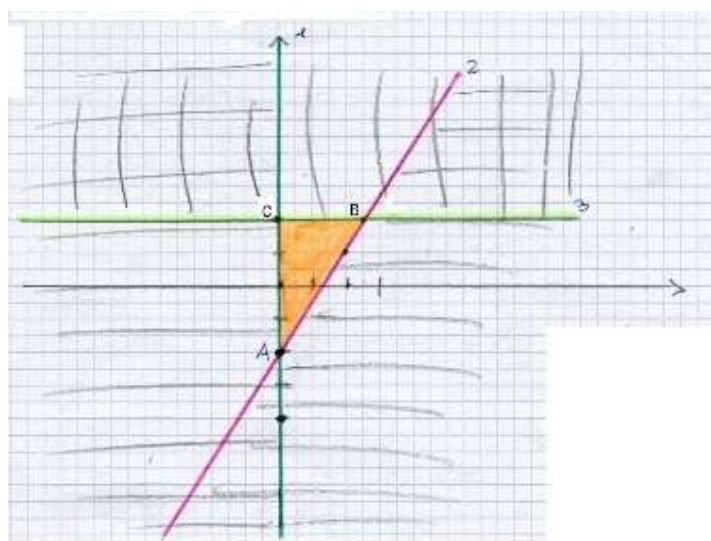
La seconda disequazione  $3x-2y \leq 4 \Rightarrow -2y \leq -3x+4 \Rightarrow 2y \geq 3x-4$  (Attenzione al **secondo principio di equivalenza** delle disequazioni, quando **si moltiplicano i due membri per un numero negativo**)

$\Rightarrow y \geq \frac{3}{2}x-2$  ha per soluzioni tutti i punti della retta  $y = \frac{3}{2}x-2$  e quelli del semipiano giacenti sopra alla retta stessa. Quindi si cancella la zona sotto la retta.

La terza disequazione  $2y-4 \leq 0 \Rightarrow 2y \leq 4 \Rightarrow y \leq 2$  ha per soluzioni tutti i punti della retta  $y = 2$  (parallela all'asse  $x$ ) e quelli del semipiano sotto la retta stessa.

Quindi si cancella la zona sopra alla retta di equazione  $y = 2$ .

Si ottiene quindi la figura



$$\begin{cases} 3(x+2) \geq 6 & 1 \\ 3x-2y \leq 4 & 2 \\ 2y-4 \leq 0 & 3 \end{cases}$$

Per determinare le coordinate dei vertici A, B e C di tale figura si risolvono i sistemi formati dalle equazioni delle rette che li determinano, quindi:

$$A \begin{cases} x = 0 \\ y = \frac{3}{2}x - 2 \end{cases} \Rightarrow A \begin{cases} x = 0 \\ y = -2 \end{cases} \Rightarrow A(0; -2) \quad C \begin{cases} x = 0 \\ y = 2 \end{cases} \Rightarrow C(0; 2)$$

$$B \begin{cases} y = 2 \\ y = \frac{3}{2}x - 2 \end{cases} \Rightarrow B \begin{cases} \frac{3}{2}x - 2 = 2 \\ y = 2 \end{cases} \Rightarrow B \begin{cases} \frac{3}{2}x = 4 \\ y = 2 \end{cases} \Rightarrow B \begin{cases} x = \frac{8}{3} \\ y = 2 \end{cases} \Rightarrow B\left(\frac{8}{3}; 2\right)$$

4) Determina le coordinate del vertice e delle intersezioni con i due assi cartesiani della parabola di equazione  $y = -\frac{1}{2}x^2 + 2x$  disegna sul piano cartesiano, utilizzando un piano cartesiano monometrico, nel quale l'unità corrisponde a 2 quadretti.

Sullo stesso piano cartesiano disegna poi la retta di equazione  $x - 2y - 4 = 0$  e determina, tramite l'opportuno sistema, i punti di intersezione tra la parabola e la retta.

L'asse di simmetria di una parabola ha equazione  $x = -\frac{b}{2a}$  quindi  $x = -\frac{2}{-1} \Rightarrow x = 2$  è l'asse di simmetria della parabola di equazione  $y = -\frac{1}{2}x^2 + 2x$

Il vertice si trova quindi risolvendo il sistema  $\begin{cases} x = 2 \\ y = -\frac{1}{2}x^2 + 2x \end{cases} \Rightarrow V \begin{cases} x = 2 \\ y = -2 + 4 = 2 \end{cases} \Rightarrow V(2; 2)$

L'intersezione con l'asse delle ordinate è  $O(0; 0)$

Le intersezioni con l'asse delle ascisse si trovano risolvendo il sistema  $\begin{cases} y = 0 \\ y = -\frac{1}{2}x^2 + 2x \end{cases} \Rightarrow$

$$\begin{cases} y = 0 \\ -\frac{1}{2}x^2 + 2x = 0 \end{cases} \Rightarrow \begin{cases} y = 0 \\ -\frac{1}{2}x(x - 4) = 0 \end{cases} \Rightarrow \begin{cases} y = 0 \\ x = 0 \vee x = 4 \end{cases} \Rightarrow \begin{cases} y = 0 \\ x = 0 \end{cases} \vee \begin{cases} y = 0 \\ x = 4 \end{cases}$$

quindi le intersezioni con l'asse delle ascisse sono i due punti  $O(0; 0)$   $A(4; 0)$

Conoscendo le coordinate del vertice e delle intersezioni con gli assi cartesiani risulta facile tracciare il grafico della parabola, tuttavia è possibile anche determinare qualche altro punto, sostituendo valori di  $x$  a piacere nell'equazione  $y = -\frac{1}{2}x^2 + 2x$  cioè utilizzando il concetto di funzione.

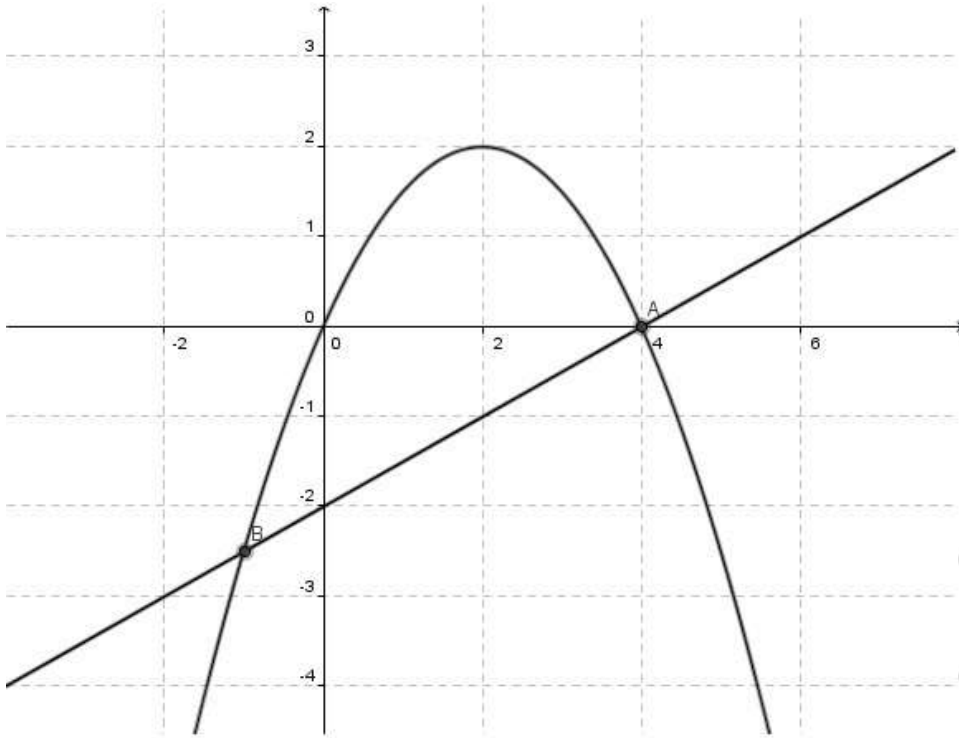
E' necessario rispettare l'unità di misura indicata nella traccia ( unità corrispondente a due quadretti)

Sullo stesso piano cartesiano va poi disegnata la retta di equazione  $x - 2y - 4 = 0$  che conviene esplicitare:

$$y = \frac{1}{2}x - 2 \quad \text{Tale retta passa per i punti } (0; -2) \text{ e } (4; 0) \text{ in cui interseca gli assi cartesiani.}$$

Per disegnarla è anche possibile, invece di determinare l'intersezione con l'asse  $x$ , tener conto del coefficiente angolare  $m$  (scalino: andando a destra di due quadretti, si sale di uno) a partire da  $(0; q)$  cioè  $(0; -2)$

Il grafico è il seguente:



Infine, per determinare i punti di intersezione tra parabola e retta, si risolve il sistema:

$$\begin{cases} y = \frac{1}{2}x - 2 \\ y = -\frac{1}{2}x^2 + 2x \end{cases} \Rightarrow \begin{cases} y = \frac{1}{2}x - 2 \\ \frac{1}{2}x - 2 = -\frac{1}{2}x^2 + 2x \end{cases} \Rightarrow \begin{cases} y = \frac{1}{2}x - 2 \\ \frac{1}{2}x^2 - 2x + \frac{1}{2}x - 2 = 0 \end{cases} \Rightarrow$$

$$\begin{cases} y = \frac{1}{2}x - 2 \\ \frac{1}{2}x^2 - \frac{3}{2}x - 2 = 0 \end{cases} \Rightarrow \begin{cases} y = \frac{1}{2}x - 2 \\ x^2 - 3x - 4 = 0 \end{cases} \Rightarrow \begin{cases} y = \frac{1}{2}x - 2 \\ (x-4)(x+1) = 0 \end{cases} \Rightarrow$$

$$\begin{cases} y = \frac{1}{2}x - 2 \\ x = -1 \vee x = 4 \end{cases} \Rightarrow \begin{cases} y = \frac{1}{2}x - 2 = -\frac{1}{2} - 2 = -\frac{5}{2} \\ x = -1 \end{cases} \vee \begin{cases} y = \frac{1}{2}x - 2 = 2 - 2 = 0 \\ x = 4 \end{cases}$$

Quindi i due punti di intersezione sono:  $A(4;0)$   $B\left(-1;-\frac{5}{2}\right)$